

ЗАДАНИЕ ПО ФИЗИКЕ
ВАРИАНТ 27881 для 8-го класса

1. Масса кучевого облака достигает миллиона тонн. Объясните, почему такое тяжелое облако не падает на Землю.

Решение: Облака падают медленно за счет силы сопротивления воздуха, уравновешивающей силу тяжести. При этом за счет броуновского движения в восходящем потоке воздуха частицы могут изменить направление движения и подниматься.

2. В октябре в городе Таруса проходила научная конференция «Проблемы термоядерной энергетики и плазменные технологии». В последний день работы конференции студенты и сотрудники НИУ «МЭИ» отправились на теплоходную экскурсию по реке Ока в усадьбу Поленово, расположенную ниже по течению. В то же самое время от пристани Поленово в Тарусу вышел другой теплоход без пассажиров. Через некоторое время оба теплохода попали в густой туман, и капитаны теплоходов из-за плохой видимости приняли решение снизить скорость в два раза. Во сколько раз время опоздания теплохода, прибывшего в Тарусу, будет отличаться от времени опоздания теплохода, прибывшего в Поленово? Скорости теплоходов в хорошую погоду относительно воды одинаковы и в 4 раза больше скорости течения реки.

Решение: Пусть U – скорость течения реки, V – скорость теплохода в стоячей воде, l – длина участка пути, где был туман, t_1 и t_2 – время движения теплоходов в тумане, T_1 и T_2 – время прохождения того же расстояния в хорошую погоду.

Очевидно, что опоздание каждого теплохода определяется разностью времени движения в тумане и в хорошую погоду:

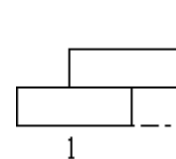
$$\Delta t_1 = t_1 - T_1 = \frac{l}{\frac{V}{2} + U} - \frac{l}{V + U} = \frac{l \frac{V}{2}}{(V + U)(\frac{V}{2} + U)}, \Delta t_2 = t_2 - T_2 = \frac{l}{\frac{V}{2} - U} - \frac{l}{V - U} = \frac{l \frac{V}{2}}{(V - U)(\frac{V}{2} - U)}$$

Отношение этих опозданий при известном отношении скоростей приводит к ответу

$$\frac{\Delta t_2}{\Delta t_1} = \frac{(V+U)(\frac{V}{2}+U)}{(V-U)(\frac{V}{2}-U)} = \frac{(4+1)(2+1)}{(4-1)(2-1)} = 5 \text{ раз.}$$

Ответ: 5 раз.

3. Внутренний двор (атриум) главного учебного корпуса НИУ «МЭИ» выложен тротуарной плиткой. При выполнении ремонтных работ часть плитки складировали у стены корпуса в два ряда так, что верхняя плитка своим торцом упиралась в стену (см. рис.). На каком максимальном расстоянии от стены может находиться ближний к ней торец нижней плитки, чтобы верхняя плитка лежала горизонтально? Коэффициент трения между плитками, а также между плиткой и стеной равен $\mu = 0,4$. Толщина плитки в четыре раза меньше её длины, равной $l = 20$ см. Нижнюю горизонтальную плитку считать неподвижной.



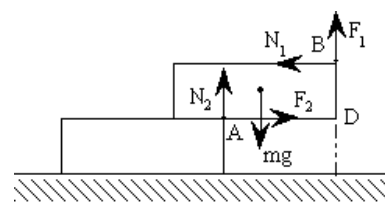
Решение: Если верхняя плитка начнёт падать, то она будет поворачиваться вокруг оси, совпадающей с верхним ближним к стене ребром A неподвижной нижней плитки. Действующие на верхнюю плитку силы нормальной реакции и трения будут приложены в месте расположения ребра A нижней плитки и к ребру B верхней плитки. Учитывая это, записываем

условия равновесия верхней плитки: $mg = N_2 + F_1$; $N_1 = F_2$; $N_1 h + \frac{1}{2} mgl = N_2 x$. Здесь x –

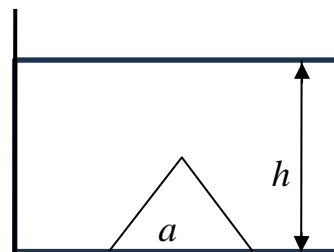
расстояние от ближнего торца нижней плитки до стены. Первые два уравнения выражают условия равенства нулю суммы проекций на оси координат всех сил, действующих на плитку, а третье – условие равенства нулю рассчитанных относительно точки D суммы моментов этих сил. Когда плитка начинает падать, происходит скольжение её относительно нижней и стены, поэтому силы трения можно выразить через силы нормальной реакции: $F_1 = \mu N_1$; $F_2 = \mu N_2$.

Решая записанные уравнения относительно x , находим

$$x = \mu h + (1 + \mu^2) \frac{l}{2} = (2 + \mu + 2\mu^2) \frac{l}{4} = 13,6 \text{ (см).}$$



4. Правильная четырехугольная пирамида приклеена к дну стеклянного аквариума. Длина стороны квадрата, лежащего в основании пирамиды, равна высоте пирамиды $a = 10$ см. Аквариум заполнен водой до уровня $h = 2a$. Плотность воды $\rho_{\text{в}} = 1000$ кг/м³, плотность стекла $\rho = 2,7\rho_{\text{в}}$. Найдите силу давления пирамиды на дно аквариума, если объём данной пирамиды равен $a^3/3$.



Решение:

Если бы вместо клея был тонкий слой воды, то сила Архимеда равнялась бы $F_A = \rho_{\text{в}}gV = F_A(\uparrow) - F_A(\downarrow) = \rho_{\text{в}}ghS - F_A(\downarrow) \rightarrow F_A(\downarrow) = \rho_{\text{в}}ghS - \rho_{\text{в}}gV$

Когда пирамида приклеена, то сила давления на дно аквариума

$$F_{\text{д}} = mg + F_A(\downarrow) = 2,7\rho_{\text{в}} \frac{a^3}{3} g + \rho_{\text{в}}g \left(2a^3 - \frac{1}{3}a^3 \right) =$$

$$= 2,7 \cdot 10^3 \cdot \frac{10^{-3}}{3} \cdot 10 + 10^3 \cdot 10 \left(2 \cdot 10^{-3} - \frac{1}{3}10^{-3} \right) = 9 + 17 = 26 \text{ Н}$$

Ответ: 26 Н

5. Уровень воды в водохранилище гидроэлектростанции находится на 200 м выше турбины гидрогенератора. Мощность одного гидрогенератора на этой ГЭС составляет 600 МВт, его КПД 95%; диаметр водовода, направляющего поток воды на генератор, равен 7.5 м, расход воды на один генератор 360 м³/с. Ускорение свободного падения принять равным 10 м/с². Определите, на сколько повышается температура воды сразу за плотиной ГЭС.

Решение:

Вода в водохранилище гидроэлектростанции обладает запасом потенциальной энергии $W = mgh$. Этот запас расходуется на совершение работы против сил вязкого трения в водоводе (что и приводит к нагреванию воды) и элементах гидротурбины, на вращение самой гидротурбины и на сообщение кинетической энергии водяному потоку. Для данного случая закон сохранения энергии записывается в виде:

$$mgh = cm\Delta T + \frac{Nt}{\eta} + \frac{mv^2}{2} \quad (1)$$

где η — КПД гидрогенератора, c — удельная теплоемкость воды, ΔT — разность температур воды до и после плотины, h — уровень воды за плотиной, v — скорость потока воды в водоводе.

Расход воды через водовод равен $G = \frac{V}{t} = Sv = \frac{\pi d^2}{4}v$, где V — объем воды, проходящий через турбину в единицу времени, S — площадь водовода, d — его диаметр.

Необходимо отметить, что в водоводе скорость потока одинакова по всей длине вследствие несжимаемости воды и неразрывности струи.

Поскольку $m = \rho V = \rho Gt$ и $v = \frac{4G}{\pi d^2}$, то выражение (1) можно переписать в виде

$$gh = c\Delta T + \frac{N}{\eta G\rho} + \frac{\left(\frac{4G}{\pi d^2} \right)^2}{2}.$$

Откуда

$$\Delta T = \frac{gh}{c} - \frac{N}{\eta G\rho c} - \frac{\left(\frac{4G}{\pi d^2} \right)^2}{2c} = \frac{10 \cdot 200}{4200} - \frac{600 \cdot 10^6}{0,95 \cdot 360 \cdot 1000 \cdot 4200} - \frac{(4 \cdot 360)^2}{(\pi \cdot 7,5)^2 \cdot 2 \cdot 4200} \approx 0,05 \text{ }^\circ\text{C}$$

Ответ: $\Delta T \approx 0,05 \text{ }^\circ\text{C}$